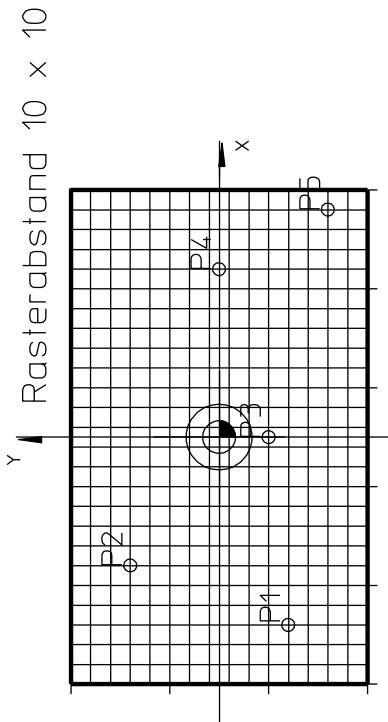
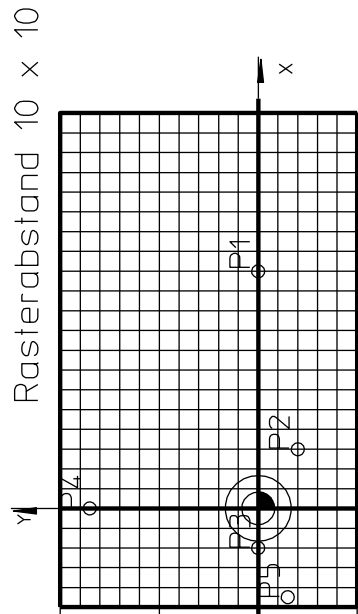


## Koordinaten bestimmen (Lösung)

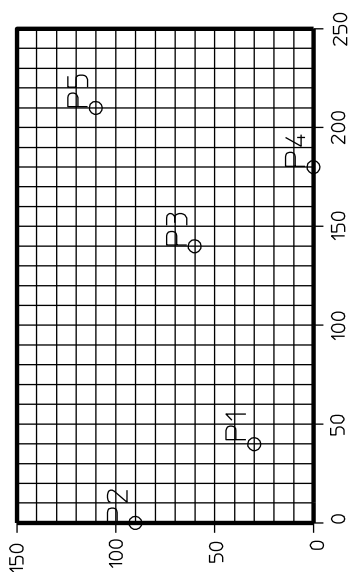
Aufgabe: Bestimmen Sie die Koordinaten der Punkte.  
Tragen Sie die Punkte in die Koordinatensysteme ein.  
Beachten Sie die teilweise verschobenen Nullpunkte.



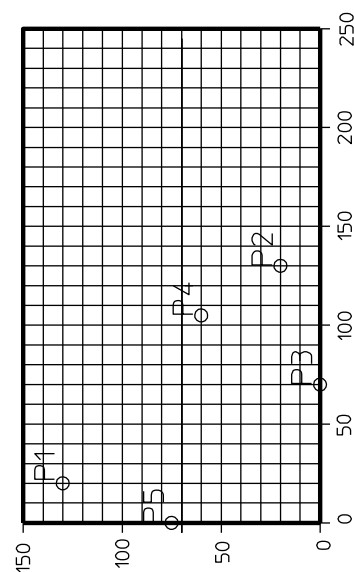
Punkte	X	Y
P1	-95	-35
P2	-65	45
P3	0	-25
P4	85	0
P5	115	-55



Punkte	X	Y
P1	120	0
P2	30	-20
P3	-20	0
P4	0	85
P5	-45	-15



Punkte	X	Y
P1	40	30
P2	0	90
P3	140	60
P4	180	0
P5	210	110



Punkte	X	Y
P1	20	130
P2	130	20
P3	70	0
P4	105	60
P5	0	75